

ΥΠΟΥΡΓΕΙΟ ΠΑΙΔΕΙΑΣ ΚΑΙ ΘΡΗΣΚΕΥΜΑΤΩΝ
ΙΝΣΤΙΤΟΥΤΟ ΕΚΠΑΙΔΕΥΤΙΚΗΣ ΠΟΛΙΤΙΚΗΣ

Μαρία Δημητρακοπούλου

Μαγδαληνή Τζένου

Πολύβιος Ανδρούτσος



Μουσική

Β' ΓΥΜΝΑΣΙΟΥ

ΤΕΤΡΑΔΙΟ ΕΡΓΑΣΙΩΝ

Μουσική

Β' ΓΥΜΝΑΣΙΟΥ

ΣΤΟΙΧΕΙΑ ΑΡΧΙΚΗΣ ΕΚΔΟΣΗΣ

ΣΥΓΓΡΑΦΕΙΣ: **Μαρία Δημητρακοπούλου**, *Εκπαιδευτικός Β/θμιας Εκπ/σης*
Μαγδαληνή Τζένου, *Εκπαιδευτικός Β/θμιας Εκπ/σης*
Ποθύβιος Ανδρούτσος, *Μουσικοπαιδαγωγός*

ΚΡΙΤΕΣ-ΑΞΙΟΛΟΓΗΤΕΣ : **Σμαράγδα Χρυσοστόμου**, *Επίκουρη Καθηγήτρια Παν/μίου Αθηνών*
Κωνσταντίνος Πατσαντζόπουλος, *Σχολικός Σύμβουλος*
Ιωάννης Κούρτης, *Εκπαιδευτικός Β/θμιας Εκπαίδευσης*

ΦΙΛΟΛΟΓΙΚΗ ΕΠΙΜΕΛΕΙΑ: **Μαρία Τζουανάκη**, *Φιλολόγος, Εκπαιδευτικός Β/θμιας Εκπ/σης*

ΥΠΕΥΘΥΝΟΣ ΤΟΥ ΜΑΘΗΜΑΤΟΣ

ΚΑΤΑ ΤΗ ΣΥΓΓΡΑΦΗ: **Αθανάσιος Παπαζαρής**, *Μόνιμος Πάρεδρος του Παιδαγωγικού Ινστιτούτου*

ΥΠΕΥΘΥΝΗ ΤΟΥ ΥΠΟΕΡΓΟΥ **Μαρία Φραγκούλη**, *Εκπαιδευτικός Β/θμιας Εκπ/σης*

ΠΡΟΕΚΤΥΠΩΤΙΚΕΣ ΕΡΓΑΣΙΕΣ: **ΕΚΔΟΤΙΚΟΣ ΟΡΓΑΝΙΣΜΟΣ ΛΙΒΑΝΗ** 

Γ' Κ.Π.Σ. / ΕΠΕΑΕΚ II / Ενέργεια 2.2.1 / Κατηγορία Πράξεων 2.2.1.α:
«Αναμόρφωση των προγραμμάτων σπουδών και συγγραφή νέων εκπαιδευτικών πακέτων»

ΠΑΙΔΑΓΩΓΙΚΟ ΙΝΣΤΙΤΟΥΤΟ
Δημήτριος Γ. Βλάχος
Ομότιμος Καθηγητής του Α.Π.Θ.
Πρόεδρος του Παιδαγωγικού Ινστιτούτου

Πράξη με τίτλο:

«Συγγραφή νέων βιβλίων και παραγωγή υποστηρικτικού εκπαιδευτικού υλικού με βάση το ΔΕΠΠΣ και τα ΑΠΣ για το Γυμνάσιο»

Επιστημονικοί Υπεύθυνοι Έργου
Αντώνιος Σ. Μπομπέτσος
Σύμβουλος του Παιδαγωγικού Ινστιτούτου
Γεώργιος Κ. Παληός
Σύμβουλος του Παιδαγωγικού Ινστιτούτου

Αναπληρωτές Επιστημονικοί Υπεύθυνοι Έργου
Ιγνάτιος Ε. Χατζηευστρατίου
Μόνιμος Πάρεδρος του Παιδαγωγικού Ινστιτούτου
Γεώργιος Χαρ. Ποθύζος
Πάρεδρος Ε.Θ. του Παιδαγωγικού Ινστιτούτου

Έργο συγχρηματοδοτούμενο 75% από το Ευρωπαϊκό Κοινωνικό Ταμείο και 25% από εθνικούς πόρους.

ΣΤΟΙΧΕΙΑ ΕΠΑΝΕΚΔΟΣΗΣ

Η επανέκδοση του παρόντος βιβλίου πραγματοποιήθηκε από το Ινστιτούτο Τεχνολογίας Υπολογιστών & Εκδόσεων «Διόφαντος» μέσω ψηφιακής μακέτας, η οποία δημιουργήθηκε με χρηματοδότηση από το ΕΣΠΑ / ΕΠ «Εκπαίδευση & Διά Βίου Μάθηση» / Πράξη «ΣΤΗΡΙΖΩ».



Ευρωπαϊκή Ένωση
Ευρωπαϊκό Κοινωνικό Ταμείο



ΥΠΟΥΡΓΕΙΟ ΠΑΙΔΕΙΑΣ & ΘΡΗΣΚΕΥΜΑΤΩΝ, ΠΟΛΙΤΙΣΜΟΥ & ΑΘΛΗΤΙΣΜΟΥ
ΕΙΔΙΚΗ ΥΠΗΡΕΣΙΑ ΔΙΑΧΕΙΡΙΣΗΣ
Με τη συγχρηματοδότηση της Ελλάδας και της Ευρωπαϊκής Ένωσης



ΕΣΠΑ
2007-2013
Πρόγραμμα για τη ανάπτυξη
ΕΥΡΩΠΑΪΚΟ ΚΟΙΝΩΝΙΚΟ ΤΑΜΕΙΟ

Οι διορθώσεις πραγματοποιήθηκαν κατόπιν έγκρισης του Δ.Σ. του Ινστιτούτου Εκπαιδευτικής Πολιτικής

ΥΠΟΥΡΓΕΙΟ ΠΑΙΔΕΙΑΣ ΚΑΙ ΘΡΗΣΚΕΥΜΑΤΩΝ
ΙΝΣΤΙΤΟΥΤΟ ΕΚΠΑΙΔΕΥΤΙΚΗΣ ΠΟΛΙΤΙΚΗΣ

Μαρία Δημητρακοπούλου Μαγδαληνή Τζένου Πολύβιος Ανδρούτσος

Η συγγραφή και η επιστημονική επιμέλεια του βιβλίου πραγματοποιήθηκε
υπό την αιγίδα του Παιδαγωγικού Ινστιτούτου

Μουσική

Β΄ ΓΥΜΝΑΣΙΟΥ

ΤΕΤΡΑΔΙΟ ΕΡΓΑΣΙΩΝ

ΠΕΡΙΕΧΟΜΕΝΑ

Ενας κόσμος... μετά μουσικής

Μουσικές της γης	5
------------------------	---

Σε ρυθμούς... αφρικάνικους

Ο ρόλος της μουσικής στην καθημερινή ζωή της Αφρικής	7
Η δομή της μουσικής	8
Οι τελετουργίες και ο ρόλος της μουσικής	9

Μελωδικοί εξωτικοί αυτοσχεδιασμοί

Ράγκα και τάλα	11
Μπαλινέζικο Γκαμελάν.....	14
Η πολυσύνθετη μουσική της Κίνας	15
Η χώρα του Ανατέλλοντος Ηλίου	17

Μουσική για... χορό

Η μουσική στη Λατινική Αμερική.....	20
Στα υψίπεδα των Άνδεων	22
Βραζιλιάνικοι ρυθμοί	24
Αργεντινή και τάνγκο	26

Ευρωπαϊκές προδιαγραφές

Ενωμένη Ευρώπη	29
Το «κλασικό» στον ορίζοντα του «διαχρονικού»	31
Μια Μεσόγειος... μουσική	35
Εδώ είναι Βαλκάνια!	38

Ο γύρος της Ελλάδας

Μουσικοί ρυθμοί στην Ελλάδα	42
Μουσική... πατριδογνωσία	44
Με βιολί σαντουροβιόλι	46
Ζυγίες και Κομπανίες	49

Μουσικές της Γης

1. Θα ακούσετε 5 δείγματα μουσικής από διαφορετικά μέρη του κόσμου.
- Προσπαθήστε να διακρίνετε τις περιοχές προέλευσής τους, ενώνοντας το κάθε παράδειγμα της πρώτης στήλης με την κατάλληλη χώρα.



1.	Βολιβία
2.	Βραζιλία
3.	Κίνα
4.	Μπαλί
5.	Τουρκία

2. Τώρα θα ακούσετε ξανά τα ίδια δείγματα και θα πρέπει να διακρίνετε κάποιες κατηγορίες οργάνων.
- Ενώστε με μια γραμμή το κάθε παράδειγμα με την κατάλληλη ομάδα οργάνων.

1.	Χορδόφωνα, Ιδιόφωνα, Αερόφωνα
2.	Μεμβρανόφωνα, Χορδόφωνα, Ιδιόφωνα
3.	Αερόφωνα, Μεμβρανόφωνα, Χορδόφωνα
4.	Χορδόφωνα
5.	Μεμβρανόφωνα, Ιδιόφωνα



Μουσικές της Γης

3. Αντιστοιχίστε τις ηέξεις των δύο στηλών.

Σαντούρι
Τουμπελέκι
Κουδούνια
Γκάντα

Ιδιόφωνο
Χορδόφωνο
Αερόφωνο
Μεμβρανόφωνο

4. Γράψτε ένα ελληνικό παραδοσιακό τραγούδι για καθένα από τα παρακάτω θέματα.



1. Της θάλασσας	
2. Νανούρισμα	
3. Του γάμου	
4. Κάλαντα	
5. Της ελληνικής επανάστασης	

5. Τραγουδήστε το τραγούδι «Καληνύφτα» (Ανθολόγιο σελ. 149) και αναφέρετε σε ποια κατηγορία ανήκει το θέμα του, από ποια περιοχή είναι και ποια είναι τα χαρακτηριστικά του:



Ο ρόλος της μουσικής στην καθημερινή ζωή της Αφρικής

1. Στείλε το μήνυμά σου με τον αφρικάνικο τρόπο!

Πριν να ανακαλυφθούν τα τηλέφωνα και η ηλεκτρονική αλληλογραφία, η αποστολή μηνυμάτων δεν ήταν εύκολη υπόθεση. Οι άνθρωποι έλυσαν αυτό το πρόβλημα με διάφορους τρόπους (ειδικούς δρομείς, σήματα φωτιάς, σήματα καπνού κ.ά.).



Οι λαοί που ζούσαν σε διαφορετικές περιοχές της Αφρικής έστελναν μηνύματα χρησιμοποιώντας τα «τύμπανα με σχισμή» (*slit drums*). Κάθε πολιτισμός ανέπτυξε τη δική του «γλώσσα» για τα μηνύματα. Τα χωριά που χρησιμοποιούσαν τα τύμπανα συμφωνούσαν σε μια μορφή κωδικοποιημένων προτάσεων. Το μήνυμα ακούγονταν σαν πρόταση αληιά χωρίς λέξεις.

- Φτιάξτε τον δικό σας κώδικα επικοινωνίας, τον οποίο θα αναγνωρίζει όλη η τάξη.

Ρυθμικό μήνυμα

- Χρησιμοποιήστε κρουστά με δύο διαφορετικούς τόνους και συμφωνήστε σχετικά με τα μηνύματα. Αυτά μπορούν να αποτελούνται από 3 έως 5 προτάσεις. Γράψτε τους ρυθμούς σας στον χώρο που υπάρχει παρακάτω, χρησιμοποιώντας ρυθμική σημειογραφία. Οι προτάσεις που θα χρησιμοποιήσετε μπορούν να είναι για παράδειγμα: «Στείλτε τον γιατρό αμέσως», «θα έρθω αύριο για το παζάρι», «έπιασε φωτιά στο δάσος» κ.ά.
- Χωριστείτε σε ομάδες των τριών. Η κάθε ομάδα θα στέλνει ένα μήνυμα και οι υπόλοιπες θα προσπαθούν να το μεταφράσουν.

Αξιολόγηση άσκησης από τον μαθητή	Βαθμός (1 μέχρι 5)
Συνεργασία για την εύρεση κωδικών	
Χρήση σημειογραφίας	
Εκτέλεση του μηνύματος της ομάδας μου	
Κατανόηση του μηνύματος άλλων ομάδων	
1- άσχημα, 2- μέτρια, 3- καλά, 4- πολύ καλά, 5- τέλεια	

Η δομή της μουσικής

2. Τραγουδήστε το παρακάτω παιδικό τραγούδι για τη μητέρα, το οποίο προέρχεται από τη Γκάνα.



Μά - μα, Κέ-μπε Μά-μα, Ο, Κέ-μπε Μα, Μά - μα Κέ-μπε Μά-μα, Ο Κέ-μπε, Μα.

- Χωριστείτε σε δύο ομάδες. Η πρώτη θα τραγουδάει τα δύο πρώτα μέτρα και η δεύτερη τα δύο επόμενα.
- Η κλίμακα του τραγουδιού είναι: Κυκλώστε τη σωστή απάντηση.

Πεντάφθογγη Εξάφθογγη Επτάφθογγη

Για να βοηθηθείτε, μετρήστε πόσες νότες αποτελούν τη μελωδία από τη χαμηλότερη προς την υψηλότερη.

- Δοκιμάστε να το συνοδεύσετε με το παρακάτω ρυθμικό σχήμα.

(Πάτσεν= χτυπήματα στους μηρούς, Κλαπ= παλαμάκια, Σναπ= στράκες, δηλ. τρίψιμο του αντίχειρα με τον μέσο)



Πάτσεν Κλαπ Σναπ Κλαπ Πάτσεν Κλαπ Σναπ Κλαπ

- Δοκιμάστε επίσης, να συνοδεύσετε με κάποιο μελωδικό όργανο το τραγούδι σας, παίζοντας το παρακάτω μελωδικό σχήμα.



Οι τελετουργίες και ο ρόλος της μουσικής

3. Οι τελετουργίες παίζουν πολύ σημαντικό ρόλο στην οργάνωση των αφρικάνικων αλλιά και άλλων κοινωνιών.

- Τραγουδήστε το παρακάτω τραγούδι συνοδεύοντας με παλαμάκια.
- Ένας μαθητής τραγουδά όλο το τραγούδι μια φορά ως ερώτηση και όλη η τάξη επαναλαμβάνει ως απάντηση. Στη συνέχεια τραγουδιέται ως ερώτηση-απάντηση μεταξύ αγοριών-κοριτσιών.

Ye Ye Baleo

(Τελετουργικό τραγούδι από τη Ν. Αφρική, ύμνος στη θεότητα της γονιμότητας Ondjou)

Ον - τζού Μπα - λε - ό γιε γιε Μπα - λε - ό

5
Ον - τζού Μπα - λε - ό ά - λα - γουε ά - κα - τε Μπα - λε - ό

- Στην Ανατολική Μακεδονία και τη Θράκη τραγουδούν το τραγούδι *Πιρπιρούνα* σε περιόδους παρατεταμένης αναβροχιάς. Ένα κορίτσι ορφανό ντύνεται Πιρπιρούνα και μαζί με άλλα παιδιά γυρίζουν το χωριό και τραγουδούν το τραγούδι, μαζεύοντας τρόφιμα. Στο τέλος φτιάχνουν πίτες και τρώνε όλοι μαζί, και τα υπόλοιπα τρόφιμα τα δίνουν στην Πιρπιρούνα. Τραγουδήστε το τραγούδι και επισημάνετε τα χαρακτηριστικά της δομής του (μορφή τραγουδιού, δομή μελωδίας, ρυθμός κ.ά.).

4. Ακρόαση.

Ακούστε τον «Τελετουργικό Χορό της Φωτιάς» από το έργο «Μάγος Έρωτας» του συνθέτη Μανουέλ ντε Φάλληλα (Manuel de Falla) και το απόσπασμα «Χοροί της Γης» από την «Ιεροτελεστία της Άνοιξης» του συνθέτη Ιγκόρ Στραβίνσκυ (Igor Stravinsky).


- Ποια από τα παρακάτω στοιχεία εντοπίζετε στα δύο αποσπάσματα σε σχέση με το αφρικάνικο τελετουργικό τραγούδι «Ye ye Baleo»;

Απαντήστε με ΝΑΙ και ΟΧΙ στο αντίστοιχο τετράγωνο.

	Πολυρρυθμία	Τελετή για τη Φύση
Χορός της Φωτιάς		
Χοροί της Γης		

Τι έμαθα ...

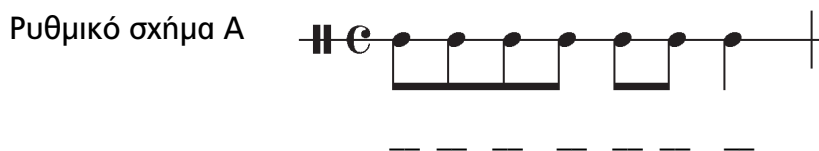
1. Το παρακάτω τραγούδι είναι από την Αφρική σε μορφή ερώτησης-απάντησης. Κυκλώστε τα μέτρα στα οποία υπάρχει η απάντηση.



2. Κυκλώστε το Σωστό ή Λάθος.

- α. Στην Αφρική δεν υπάρχει πολυφωνία. Σ Λ
- β. Η αφρικάνικη μουσική δεν έχει τετράφθογγες κλίμακες Σ Λ
- γ. Το μουσικό τόξο παίζεται με δοξάρι Σ Λ
- δ. Η μουσική έχει και θεραπευτικό ρόλο Σ Λ

3. Γράψτε τα λόγια ενός μηνύματος που να ταιριάζει στο ρυθμικό σχήμα Α



4. Συμπληρώστε τα κενά:

- α. Στην ερώτηση-απάντηση ο _____ τραγουδά και η χορωδία απαντά.
- β. Στη ρυθμική _____ οι συλλαβές δε συμπίπτουν με τον παλμό.
- γ. Ο χορός της βροχής είναι μια τελετή της _____
- δ. Το _____ είναι ένα επαναλαμβανόμενο ρυθμικό ή μελωδικό σχήμα.

5. Αντιστοιχίστε τις λέξεις με τις εικόνες.

Ιδιόφωνο

Μεμβρανόφωνο

Χορδόφωνο

Αερόφωνο



Ράγκα και Τάλα

Χαρακτηριστικά	Ράγκα της μέρας	Ράγκα της νύχτας
Μελωδία		
Ρυθμός		
Διάθεση		

1. Θα ακούσετε δύο ράγκα, μία του πρωινού και μία της νύχτας. Εντοπίστε τα χαρακτηριστικά της μουσικής της κάθε ράγκα και σημειώστε ποια πιστεύετε ότι είναι της μέρας (π.χ. ζωνρή μελωδία, γρήγορος ρυθμός, ευχάριστη διάθεση κ.ά.) και ποια της νύχτας (π.χ. μονότονη μελωδία, αργός ρυθμός, μελαγχολική διάθεση κ.ά.).

2. Στον παρακάτω πίνακα υπάρχουν δύο ράγκα και τα στοιχεία που τις χαρακτηρίζουν.

Ράγκα Μπεχάγκ (Behag)

Ωρα της ημέρας:

Διάθεση:

Νότες:

Νύχτα

Όμορφη και τρυφερή

Ντο Μι Φα Σοῦ Σι Ντο

Ράγκα Μπιλαβάλ (Bilaval)

Ωρα της ημέρας:

Διάθεση:

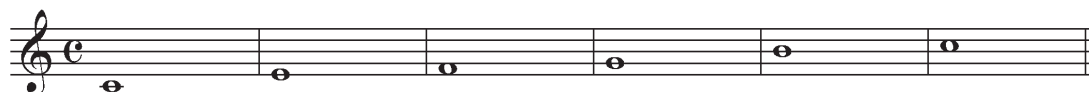
Νότες:

Απόγευμα


Ευχάριστη και χαρούμενη

Ντο Ρε Μι Φα Σοῦ Λα Σι Ντο

Ράγκα Μπεχάγκ



Ράγκα Μπιλαβάλ



Χωριστείτε σε ομάδες των τριών και προσπαθήστε να παίξετε τις δύο ράγκα, χρησιμοποιώντας ένα μελωδικό όργανο για το σόλο, ένα για το ισοκράτημα και ένα κρουστό για τον ρυθμό.

Οι νότες του ισοκράτηματος σε κάθε ράγκα βρίσκονται στον διπλανό πίνακα:

Χρησιμοποιήστε τις νότες του ισοκράτηματος όπως θέλετε, αλλά όχι ταυτόχρονα. Μπορείτε να παίξετε τις νότες αυτές με μεγάλες διάρκειες ή να δημιουργήσετε ένα μοτίβο το οποίο θα επαναλαμβάνετε από την αρχή μέχρι το τέλος της δημιουργίας σας.

Ισοκράτημα	
Μπεχάγκ	Ντο Σοῦ
Μπιλαβάλ	Ντο Σοῦ

Ράγκα και Τάλα

Μπορείτε να επιλέξετε ένα από τα χαρακτηριστικά της κάθε ράγκα για να πειραματιστείτε, π.χ. μια ώρα της ημέρας (απόγευμα, νύχτα κ.ά.), μια διάθεση (τρυφερή, χαρούμενη κ.ά.), μια συγκεκριμένη σειρά από νότες, ή ένα ισοκράτημα.



Μην ξεχνάτε να τηρείτε τις προϋποθέσεις για μια «σωστή ινδική σύνθεση», δηλαδή να ξεκινάτε με έναν εισαγωγικό αυτοσχεδιασμό με συνοδεία το ισοκράτημα και στη συνέχεια να εισάγετε τον ρυθμό, για να παίρνει μορφή η «δημιουργία» σας.

Καλή επιτυχία!

3. Συμπληρώστε τα κενά στις παρακάτω προτάσεις:

- Η _____ μουσική είναι η μουσική της Ν. Ινδίας.
- Μια μελωδία σόλο, το _____ και μια ρυθμική συνοδεία αποτελούν τα συστατικά της ινδικής μουσικής.
- Οι _____ είναι τα ιερά βιβλία των Ινδουιστών.
- Η _____ περιλαμβάνει όλα τα μελωδικά στοιχεία μιας σύνθεσης.
- Το _____ έχει 4 μελωδικές, 3 για ισοκράτημα και 13 συμπαθητικές χορδές.

4. Ακούστε το τραγούδι των Beatles «Love you too» και απαντήστε στις παρακάτω ερωτήσεις:

- Ποιο ινδικό όργανο παίζει την εισαγωγή;

- Ποια όργανα παίζουν τη ρυθμική συνοδεία;

- Υπάρχουν άλλα μουσικά όργανα;



Τικτίρι

Ράγκα και Τάλα

- Κρατήστε το παρακάτω ρυθμικό σχήμα συνοδεύοντας το τραγούδι «Love you too»:

Ομάδα Α

Ομάδα Β

5. Προσπαθήστε να παίξετε ένα τάλα.

Το **τιντάλα** είναι ένα από τα πιο συνηθισμένα τάλα της ινδικής μουσικής. Διαβάστε τις οδηγίες και παίξτε το τιντάλα. Ο κάθε αριθμός αντιστοιχεί σε ένα τέταρτο (έναν χτύπο).

Χ: Παλαμάκια

Ο: Ο δείκτης του αριστερού χεριού χτυπά τον μέσο, παράμεσο και μικρό του δεξιού

Z: Νεύμα του χεριού

1	2	3	4	5	6	7	8
X	O	O	O	X	O	O	O
9	10	11	12	13	14	15	16
Z	O	O	O	X	O	O	O

- Τραγουδήστε το παρακάτω τραγούδι συνοδεύοντας με την τιντάλα.

Νά μα νι Κα ρι Τσα του ρι Σι ρι Γκου ρου Τσα ρα να

5
Τα νι Μα νι Νι ρι μα λι Κα ρι Μπα βι Τα ρα να

9
Νά μα νι Κα ρι Τσα του ρι Σι ρι Γκου ρου Τσα ρα να

Οι στίχοι σημαίνουν:

«Να σέβετε τους δασκάλους σας
και να διατηρείτε καθαρό το σώμα και το πνεύμα».

Μπαλινέζικο γκαμελάν

1. Η μουσική του κετσάκ εκτελείται από όλους του κατοίκους ενός μπαλινέζικου χωριού, οι οποίοι κάθονται περιμετρικά σχηματίζοντας ομόκεντρους κύκλους, τραγουδώντας τον παρακάτω ρυθμό και λέγοντας μόνο τη συλλαβή τσακ.

- Ακούστε ένα απόσπασμα από κετσάκ.
- Δοκιμάστε να τραγουδήσετε με μπάσα φωνή το παρακάτω κετσάκ.



Κετσάκ

Σημ.: Όπου έχει τελεία σημαίνει παύση για έναν χτύπο, ενώ όπου έχει αριθμό πρέπει να πείτε τη συλλαβή «τσακ». Η ομάδα θα ορίσει έναν μαθητή να κρατάει τον παλμό χτυπώντας σταθερά 16 χτύπους.

1	.	.	3	.	.	6	.	8	.	.	11	.	.	14	.	16
2	1	.	.	4	.	6	.	.	9	.	.	12	.	14	.	.
3	.	2	.	.	5	.	7	.	.	10	.	.	13	.	15	16
4	1	.	.	4	.	.	7	.	9	.	.	12	.	.	15	.
5	.	2	8	.	.	11	.	13	.	.	16
6	.	.	3	.	5	10
7	.	.	.	4	.	.	7	.	.	.	10	.	.	13	.	16

2. Το 1889, ο συνθέτης Κλωντ Ντεμπισύ άκουσε μια ορχήστρα γκαμελάν στην Έκθεση του Παρισιού.

Εμπνευσμένος από τη μουσική του γκαμελάν συνέθεσε το έργο Παγόδες (Pagodes), το οποίο αποτελεί μέρος του έργου Χαλκογραφίες (Estampes) για πιάνο, που συνέθεσε το 1903 (Παγόδες, Βραδιά στη Γρενάδα, Κήποι στη βροχή).



Έκθεση Παρισιού 1889

-Συγκρίνετε τη μουσική αυτή με την παραδοσιακή μπαλινέζικη μουσική.

Η πολυσύνθετη μουσική της Κίνας

1. Ο συνθέτης Π. Ι. Τσαϊκόφσκι (P. I. Tchaikovsky) στη Σούιτα «Καρυοθραύστης» συνέθεσε τον Κινέζικο χορό.



Ακούστε τη μελωδία και απαντήστε στις παρακάτω ερωτήσεις:

Ποιο όργανο παίζει την κύρια μελωδία;

Ποια χαρακτηριστικά είναι αυτά που σας φέρνουν στο μυαλό εικόνες από την Κίνα;

Κάποια στιγμή ο ρυθμός του κομματιού αλληλάζει. Εντοπίστε το σημείο και σηκώστε το χέρι σας τη στιγμή που πρέπει.

2. «Ποίημα για το παίξιμο του τζιν», Yuan Junzhe (15ος αι.)

*Οκτώ παράθυρα είναι όλα ανοιχτά, και η νύχτα είναι πολύ ειρηνική
Ένας μοναχικός άνδρας κάθεται σε ένα ήσυχο δωμάτιο, παίζοντας ένα τζιν από νεφρίτη.
(Οι ήχοι) είναι τυχαίοι, με ένα πνεύμα αρμονίας, και ο ευνοϊκός φοίνικας
φαίνεται να χορεύει.*

*Οι γαλανοί ουρανοί από νεφρίτη είναι ειρηνικοί, ο δράκος του νερού σιγοτραγουδά.
Μέσα από τη μισάνοιχτη κουρτίνα μπορεί να φανεί το λαμπερό φεγγάρι, υπάρχει μια
ειρηνική διάθεση.*

Η μελωδία είναι η Γιανγκ Τσουν, μια πολύ αρχαία μουσική.

*Το παίξιμο σταματά αηλιά ο εκτελεστής δεν το συνειδητοποιεί, τα άστρα έφυγαν από
τον ουρανό.*

Είναι γεμάτος με τα αισθήματα της άνοιξης, που διαπερνούν εντελώς τα ρούχα του.

- Φτιάξτε μια «ηχοϊστορία» χρησιμοποιώντας το παραπάνω κείμενο.
- Για συνοδεία, παίξτε σε κάποιο μελωδικό όργανο τυχαίες νότες από την πεντατονική κλίμακα Ντο που δίνεται παρακάτω και διατηρήστε ελεύθερο ρυθμό στα κρουστά.




Η πολυσύνθετη μουσική της Κίνας

- Χρησιμοποιήστε κύμβαλα για να τονίσετε συγκεκριμένα σημεία του κειμένου, όπως επίσης και διάφορα ηχητικά εφέ για να «αποδώσετε» μουσικά το κείμενο.
 - Περιγράψτε «μουσικά» την ατμόσφαιρα που διαφαίνεται στο ποίημα.
 - Ζητήστε από τον καθηγητή σας να απαγγέλλει το κείμενο και εκτελέστε ταυτόχρονα τη δημιουργία σας.
3. Τραγουδήστε το «Γιάννη μου το μαντήλι σου» (Ανθολόγιο σελ. 57) που είναι σε πεντατονική κλίμακα και πειραματιστείτε πάνω στις αξίες στην «εναλλακτική εισαγωγή» του τραγουδιού.



- Μπορείτε να χρησιμοποιήσετε στον αυτοσχεδιασμό σας μέρη του ρυθμού που επαναλαμβάνονται ή κάποιες από τις νότες της μελωδίας.
- Μπορείτε επίσης να παίξετε πιο αργά ή πιο γρήγορα την εισαγωγή ή σε διαφορετικό μέτρο.
- Δοκιμάστε να παίξετε μόνο τις νότες που είναι όγδοα ή μόνο τις νότες που είναι δέκατα έκτα.
- Αυτοσχεδιάστε δημιουργώντας δική σας ρυθμική συνοδεία!



4. Με αφορμή το κείμενο και τις εικόνες στο Βιβλίο Μαθητή συγκρίνετε την Όπερα του Πεκίνου με την όπερα της δυτικοευρωπαϊκής μουσικής. Αναφέρετε κάποιες ομοιότητες και διαφορές ανάμεσα στα δύο είδη.

Ομοιότητες	
Διαφορές	

Χώρα του Ανατέλλοντος Ηλίου

1. Γιαπωνέζικα τύμπανα Τάικο. Ακολουθήστε τα «5 Βήματα» της παρακάτω άσκησης και παίξτε στους ρυθμούς των τυμπάνων Τάικο!

Η τάξη χωρίζεται σε δύο ομάδες, αριστερά και δεξιά. Το βήμα 2 επαναλαμβάνεται σαν γέφυρα.

Αρχικά, εξασκηθείτε στα ρυθμικά σχήματα του διπλανού Πίνακα. Το Α και το Γ παίζονται από κρουστά με οξύ ήχο (ξυλιάκια) ενώ το Β από κρουστά με βαθύ ήχο (τύμπανα).

A.	
B.	
Γ.	

Βήμα 1.

Δεξιά ομάδα	(B)	(A)
Αριστερή ομάδα	(B)	(A)

Βήμα 2.

Όλοι μαζί παίζετε: και φωνάζετε «Σούρεϊ», και φωνάζετε «Σάσα» (2 φορές)

Βήμα 3.

Δεξιά ομάδα	(B)	(A)
Αριστερή ομάδα	(B)	(B)

Βήμα 4.

Επανάληψη το Βήμα 2.

Βήμα 5.

Τέλος όλοι μαζί με τα χέρια στον αέρα!



Χώρα του Ανατέλλοντος Ηλίου

2. Χαϊκού

Τα **χαϊκού** είναι είδος ποίησης που πρωτοεμφανίστηκε στην Ιαπωνία τον 16ο αι. και υιοθετήθηκε στην Ευρώπη στις αρχές του 20ού με αποτέλεσμα να γίνουν πολύ δημοφιλή σε όλο τον κόσμο. Στην αυθεντική στιχουργική μορφή τους, τα χαϊκού είναι μικρά ποιήματα από 17 συλλαβές σε έναν ενιαίο στίχο. Στην ευρωπαϊκή εκδοχή τους συνήθως υποδιαιρούνται σε 3 στίχους από 5, 7 και 5 συλλαβές, στους οποίους αποφεύγεται η ομοιοκαταληξία. Τα χαϊκού συμπυκνώνουν ευφυΐα και σοφία, που εκφράζονται με λυρική ή άληπτε, χιουμοριστική διάθεση, ενώ συχνά υπάρχει το στοιχείο της έκπληξης. Τα θέματά τους είναι η φύση, οι εποχές και τα χρώματα, η ομορφιά των λέξεων και των αντιθέσεων, ενώ το νόημα σε αυτά κάποιες φορές αποκτά δευτερεύουσα σημασία. Στον παρακάτω χώρο φτιάξτε το δικό σας χαϊκού, ακούγοντας μουσική από την Ιαπωνία.

«Στάξε στη λίμνη
μόνο μια στάλα κρασί
και σβήνει ο ήλιος»

Δεκαέξι Χαϊκού
Γιώργος Σεφέρης




3. Αυτοσχέδιο χαϊκού

Ο γνωστότερος Ιάπωνας ποιητής χαϊκού ήταν ο *Ματσούο Μπασό (Matsuo Basho, 1644-1694)*. Το πιο φημισμένο από όλα τα χαϊκού είναι δικό του:

Παλαιά λίμνη,
βάτραχος μέσα πηδά,
ήχος του νερού

Στο παρακάτω πεντάγραμμο δημιουργήστε μια μελωδία σε ελεύθερο ρυθμό στην πεντατονική κλίμακα του Ντο για το παραπάνω χαϊκού. Θα χρειαστείτε μόνο 17 νότες, όσες και οι συλλαβές του χαϊκού! Αν θέλετε μπορείτε να μελοποιήσετε και το δικό σας χαϊκού, που γράψατε στην Άσκηση 3. Διαλέξτε όποιες από τις παρακάτω νότες της Ντο πεντατονικής προτιμάτε. Δοκιμάστε να τραγουδήσετε τη δημιουργία σας!



Η μουσική στη Λατινική Αμερική

1. Θα ακούσετε τρία αποσπάσματα. Ποιος μουσικός πολιτισμός φαίνεται να έχει ασκήσει επιρροή σε κάθένα; Κυκλώστε τη σωστή απάντηση.

- | | | |
|----------------|--------------|------------|
| 1) Α. Ινδιάνοι | Β. Αφρικανοί | Γ. Ισπανοί |
| 2) Α. Ινδιάνοι | Β. Αφρικανοί | Γ. Ισπανοί |
| 3) Α. Ινδιάνοι | Β. Αφρικανοί | Γ. Ισπανοί |

2. Το τραγούδι «*La Bamba*» πρωτοεμφανίζεται στις αρχές του 20ού αι. Πρόκειται για ένα χαρακτηριστικό είδος μουσικής του Μεξικού και της ευρύτερης περιοχής της Λατινικής Αμερικής με την ονομασία «σον» (*son*).

Συνήθως παιζόταν σε γάμους και χορευόταν κυκλικά. Όσον αφορά τη δομή του έχει επιρροές ισπανικές και αφρικανικές και οι στίχοι του είναι συνήθως αυτοσχέδιοι.

- Στον παρακάτω πίνακα υπάρχουν οι στίχοι του τραγουδιού στα ισπανικά, η προφορά τους και η μετάφρασή τους. Προσπαθήστε να τραγουδήσετε το τραγούδι.

Para bailar La Bamba	Παρά μπαϊλάρ λα Μπάμπα	Για να χορέψεις τη Μπάμπα
Se necesita una poca de gracia, Pa' mí, pa' tí	Σε νεσεσίτα ούνα πόκα ντε γκράτσια Πα μι πα τι	Χρειάζεσαι λίγη χάρη Για μένα, για σένα
Y Arriba, arriba... Por tí seré	Ι Αρίμπα , αρίμπα ... Πορ τι σερέ	και έλα σήκω, σήκω... Θα 'μαι εγώ για σένα.
Yo no soy marinero Soy capitán	Γιο νο σόι μαρινέρο Σόι καπιτάν	Εγώ δεν είμαι ναύτης Είμαι καπετάνιος
Bamba la Bamba	Μπάμπα λα μπάμπα	Μπάμπα, η Μπάμπα



Η μουσική στη Λατινική Αμερική

- Συνοδεύστε ρυθμικά το τραγούδι, χρησιμοποιώντας τα παρακάτω αυτοσχέδια όργανα:

1ο ρυθμικό σχήμα: Μοθύβια που χτυπούν το θρανίο

2ο ρυθμικό σχήμα: Παλαμάκια

3ο ρυθμικό σχήμα: Μπρελόκ με κλειδιά

The image shows three staves of musical notation, labeled 1, 2, and 3. Each staff begins with a treble clef and a common time signature (C). Staff 1 contains a sequence of eighth notes and quarter notes. Staff 2 contains a sequence of eighth notes, quarter notes, and rests. Staff 3 contains a sequence of quarter notes and half notes.

- Τραγουδήστε το εισαγωγικό σόλο της κιθάρας με σοιφέζ και στη συνέχεια με «κλειστό στόμα» δηλ., με «μ μ μ . . .».

The image shows a single staff of musical notation in treble clef with a common time signature (C). It begins with a whole rest, followed by a sequence of eighth notes and quarter notes.

- Δημιουργήστε δύο ομάδες. Η μία θα παίζει το ρυθμικό σχήμα με τα αυτοσχέδια όργανα και η άλλη θα τραγουδάει με «κλειστό στόμα» και «μ μ μ . . .» τις νότες στο παραπάνω πεντάγραμμο.



Στα υψίπεδα των Άνδεων

1. Ακούστε και τραγουδήστε το ρεφραίν στο τραγούδι «Μάνα Γη» του συγκροτήματος *Arurimas*.

Μάνα Γη (Ινδιάνικο ποίημα)

Μά - να Γη, Μά - να Γη, Ου - ρα - νέ, Πα - τέ - ρα Ου - ρα -
 νέ, τα παι - διά σας εί - μα - στε

2. Προσπαθήστε να συνοδεύσετε ρυθμικά το παραπάνω τραγούδι με τους παρακάτω ρυθμούς. Μπορείτε να χρησιμοποιήσετε τα όργανα της τάξης ή αυτοσχέδια.

3. Ακούστε το κομμάτι «*El Condor Pasa*» (παραδοσιακό από τη Βολιβία) και απαντήστε στα παρακάτω ερωτήματα:

α) Ποια είδη οργάνων ακούγονται; Κυκλώστε τις σωστές επιλογές.

Χορδόφωνα Μεμβρανόφωνα Αερόφωνα Ιδιόφωνα

β) Ποια είναι η μορφή του κομματιού; Κυκλώστε τη σωστή απάντηση.

A A B B

A B A Γ

A B Γ

Στα υψίπεδα των Άνδεων

Ακούστε το ίδιο κομμάτι από τους Πωλ Σάιμον (*Paul Simon*) και Άρτ Γκαρφάνκελ (*Art Garfunkel*) και συγκρίνετε τις δύο εκτελέσεις.


Τραγουδήστε το «*El Condor Pasa*» αρχικά με νότες και στη συνέχεια με κλειστό στόμα (με «μ μ μ . . »).

4. Ταξινομήστε τα παρακάτω όργανα σε κατηγορίες:

- | |
|-------------------|
| A. Αυλός του Πάνα |
| B. Γουανκάρα |
| Γ. Τσαράνγκο |
| Δ. Οκαρίνα |

Διαθεματική εργασία:

- Μπορείτε σε συνεργασία με τον καθηγητή της Γεωγραφίας να συλλέξετε πληροφορίες για τον πολιτισμό των Ολμέκων και των Αζτέκων και να δημιουργήσετε μια ντοκιμαντέρ με θέμα το Μάτσου-Πίτσου, την οποία θα παρουσιάσετε στους συμμαθητές σας.



Βραζιλιάνικοι ρυθμοί

1. As παίξουμε σάμπα!

- Παρακάτω υπάρχουν κάποια ρυθμικά σχήματα. Κάθε εκτελεστής αναλαμβάνει από ένα ρυθμικό σχήμα, το οποίο επαναλαμβάνει σε όλη τη διάρκεια του τραγουδιού (οστινάτο).
- Αρχικά, όλοι προσπαθούν όλα τα ρυθμικά σχήματα.
- Το τύμπανο κρατάει το βασικό παλμό που υπάρχει στην πρώτη σειρά, από την αρχή ως το τέλος.
- Για μουσικά όργανα μπορείτε να χρησιμοποιήσετε άδεια πλαστικά μπουκάλια, μοιλύβια, θρανία και όποιο άλλο αντικείμενο πιστεύετε ότι μπορεί να παραγάγει ένα ενδιαφέρον ηχοχρώμα!

1
2
3
4
5

- Αφού καταφέρετε να παίξετε το παραπάνω ρυθμικό σχήμα, προσθέστε το «κλείσιμο», όπως φαίνεται στο διπλανό ρυθμικό σχήμα.

Cinco!

- Στην παύση όλοι φωνάζουν «Ου!».
- Προσπαθήστε να παίξετε συνοδεύοντας το τραγούδι «*Isso e fundo de quinta!*» των Grupo Coisa de Familia.

Βραζιλιάνικοι ρυθμοί

2. Ο Αντόνιο Κάρλος Ζομπίμ (A. C. Jobim) συνέθεσε το τραγούδι «The Girl from Ipanema» το 1962, σε στίχους του Βινίσιους ντε Μοράες (V. de Moraes) στα πορτογαλικά.

Η πρώτη του ηχογράφηση στην Αμερική έγινε το 1964 και έκανε την μποσανόβα γνωστή παγκοσμίως. Μιλάει για ένα δεκαπεντάχρονο κορίτσι από την Ιπανέμα (προάστιο του Ρίο ντε Τζανέιρο), που περνούσε καθημερινά από τον χώρο που σύχναζε ο συνθέτης, τραβώντας τα βλέμματα όλων με την ομορφιά της.



Το ρυθμικό σχήμα που συνοδεύει τη μποσανόβα είναι το εξής:



- Δοκιμάστε να συνοδεύσετε ρυθμικά το τραγούδι «The Girl from Ipanema» καθώς το ακούτε από το CD player, τονίζοντας το χτύπημά σας όπου υπάρχει το ανάλογο σύμβολο (>).

3. Στο παρακάτω πεντάγραμμο είναι γραμμένο ένα απόσπασμα του τραγουδιού. Κυκλώστε τα σημεία όπου υπάρχει συγκοπή με μπλε χρώμα και τα σημεία όπου υπάρχει αντιχρονισμός, με κόκκινο χρώμα.

Συγκοπή: Μεταφορά του τονισμού από το ισχυρό μέρος του μέτρου στο ασθενές.

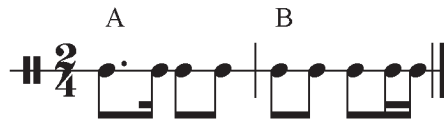
Αντιχρονισμός: Αντικατάσταση του ισχυρού μέρους του μέτρου με παύση.



Αργεντινή και τάνγκο

1. Το τάνγκο είναι ένας αργός χορός σε μέτρο 2/4 ή 4/4, με παρεστιγμένες νότες (αξίες) ή συγχοπές.

Τα δύο πιο συνηθισμένα ρυθμικά μοτίβα που συνοδεύουν ένα τάνγκο είναι τα παρακάτω:



• Δοκιμάστε να χτυπήσετε με μολύβια τα δύο ρυθμικά σχήματα. Δημιουργήστε μια ρυθμική φράση που να ταιριάζει στο ρυθμικό σχήμα Β.

2. Ακούστε τη *Χαμπανέρα* από τη *Σουίτα Κάρμεν του Ζ. Μπιζέ*.

Ο συγγραφέας Χόρχε Λουί Μπόρχες γράφει:

«το τάνγκο . . . είναι ο γιος του Ουρουγουανού μιλόνγκα και ο εγγονός της χαμπανέρα».


Αν και δεν είναι λοιπόν τάνγκο, η χαμπανέρα έχει κάποια μακρινή συγγένεια με το τάνγκο και σίγουρα τον αργό ρυθμό του.

• Το ρυθμικό σχήμα που συνοδεύει τη χαμπανέρα είναι το ρυθμικό σχήμα Α της Άσκησης 1.

Συνοδεύστε ρυθμικά τη *Χαμπανέρα* της *Κάρμεν*.

• Η κίνηση της μελωδίας είναι στο μεγαλύτερο μέρος της χρωματική κατιούσα.

Σημειώστε τις νότες της κατιούσας χρωματικής κλίμακας και προσπαθήστε να τραγουδήσετε χρωματικά από τη νότα Ρε, που ξεκινά η μελωδία της *Χαμπανέρα*, μέχρι την νότα Μι, που καταλήγει.



1. Χρωματική κατιούσα κίνηση: οι νότες κινούνται ανά ημιτόνιο προς τα κάτω.

3. Ακούστε το «Libertango» του Άστωρ Πιασόλα και προσπαθήστε να τραγουδήσετε ένα μέρος του σε δίφωνη χορωδία, διαβάζοντας την παρακάτω παρτιτούρα.

Ξεκινήστε τραγουδώντας σολφέζ και τις δύο φωνές.

1

1. Vocal line: Παμ _____ παμ πα ρα ρα ρα ραμ _____

2. Instrumental line: Μπομ μπο μπομμπομ Μπομ μπο μπομ μπομ Μπομ πα ρα ρα Ραμ μπο μπομμπομ

5

1. Vocal line: Παμ _____ παμ πα ρα ρα ρα ραμ _____ Πα ρα ρα

2. Instrumental line: Μπομ μπο μπομμπομ Μπομ Μπομ μπομ πα ρα ρα Ραμ μπο μπομ μπομ

9

1. Vocal line: ραμ _____ Παμ πα ρα ρα ρα ραμ _____

2. Instrumental line: Μπομ πα ρα ρα Ραμ μπο μπομ μπομ Μπομ Πα ρα ρα Ραμ μπο μπομ μπομ

13

1. Vocal line: Παμ _____ παμ πα ρα ραμ _____

2. Instrumental line: Μπομ πα ρα ρα Ραμ μπο μπομ μπομ Μπομ πα ρα ρα Ραμ Πα ρα ρα

Ενωμένη Ευρώπη

1. Τραγουδήστε το τραγούδι «*Dona Nobis Pacem*», πρώτα μονοφωνικά και μετά σε τρίφωνο εκκλητικό κανόνα.

Πρόκειται για μια προσευχή για την ειρήνη στα λατινικά, αγνώστου συνθέτη.



Dona Nobis Pacem

Δώσε μας Ειρήνη

Do - na No - bis Pa - cem Pa - cem Do - na No - bis Pa - cem

9 2. Do - na No - bis Pa - cem Do - na No - bis Pa - cem

17 3. Do - na No - bis Pa - cem Do - na No - bis Pa - cem

2. Το 1850, ο Γερμανός συνθέτης *Γιοχάνες Μπραμς (Johannes Brahms)* συνάντησε τον Ούγγρο βιοθιστή *Έντουαρντ Ρέμενυι (Eduard Reményi)*, που τον μύπησε στη μουσική των Ούγγρων τσιγγάνων. Αργότερα συνέθεσε τους *Ουγγρικούς χορούς*, ένα σύνολο 21 χορών βασισμένων σε τσιγγάνικες μουσικές.

Ακούστε τον *Ουγγρικό χορό Νο. 5* σε Σολ ελάσσονα και απαντήστε στα παρακάτω ερωτήματα κυκλώνοντας τη σωστή απάντηση:



- Σε τι μέτρο είναι γραμμένο το κομμάτι;
A. 2/4 B. 7/8 Γ. 3/4
- Πόσα διαφορετικά θέματα ακούγονται;
A. 2 B. 3 Γ. 6
- Το αρχικό θέμα παίζεται:
A. Δυνατά-σιγανά B. Σιγανά-δυνατά Γ. Δυνατά-δυνατά

2. Εκκλησικός κανόνας: σύνθεση στην οποία δύο ή περισσότερες φωνές τραγουδούν ακριβώς την ίδια μελωδία αλληλά κάθε φωνή ξεκινά από διαφορετικό σημείο της σύνθεσης. Ονομάζεται συνεχής ή εκκλησικός κανόνας, επειδή μόλις η κάθε φωνή φτάσει στο τέλος, ξαναρχίζει από την αρχή.

Ενωμένη Ευρώπη

3. Στο παρακάτω πεντάγραμμο βάλτε στη σειρά τις νότες από το Ρε κάτω από το πεντάγραμμο μέχρι το Ρε της τέταρτης γραμμής. Έχετε σχηματίσει τον Δώριο Ρε τρόπο. Κυκλώστε με μολύβι τα ημιτόνια (ΜΙ-ΦΑ και ΣΙ-ΝΤΟ) και με στυλό τους τόνους.

Οι «τρόποι» στη μουσική δηλώνουν κλίμακες, όπως οι μείζονες και οι ελάσσονες, με τη διαφορά ότι οι τόνοι και τα ημιτόνια βρίσκονται σε διαφορετική θέση. Έχουν τις ρίζες τους στην Αρχαία Ελλάδα και πήραν τα ονόματά τους από τις ελληνικές φυλές. Τον Μεσαίωνα, η Καθολική Εκκλησία χρησιμοποίησε τους αρχαίους ελληνικούς τρόπους αλληλάζοντας τη βάση της κάθε κλίμακας και τη φορά: από κατιούσα που ήταν στην Αρχαία Ελλάδα σε ανιούσα, σχηματίζοντας έτσι άλλους «τρόπους» με την ίδια όμως ονομασία.

- Η μείζονα κλίμακα έχει την ακόλουθη διαδοχή τόνων και ημιτονίων:

Τόνος-Τόνος-Ημιτόνιο-Τόνος-Τόνος-Τόνος-Ημιτόνιο

Ποια είναι η διαδοχή τόνων και ημιτονίων του Δώριου τρόπου;

- Ζητήστε από τον καθηγητή σας να παίξει τον Δώριο Ρε και τη Ρε μείζονα κλίμακα. Έχουν διαφορά στο άκουσμα οι δύο κλίμακες; Κυκλώστε την απάντηση που θεωρείτε σωστή.

Ναι 😊

Όχι 😊



4. Στο σπίτι, στα δύο παρακάτω πεντάγραμμα, μπορείτε να σχηματίσετε τον Μιξοθύδιο που ξεκινά από τη νότα Σοή και τον Φρύγιο τρόπο που ξεκινά από τη νότα ΜΙ και να κυκλώσετε τους τόνους και τα ημιτόνια.

Το «κλασικό» στον ορίζοντα του διαχρονικού

1. Ακούστε την «Άνοιξη» από τις «*Τέσσερις Εποχές*» του Αντόνιο Βιβάλντι. Ο συνθέτης εμπνεύστηκε από το κείμενο τεσσάρων ιταλικών σονέτων (ένα για κάθε εποχή) για τη σύνθεση αυτού του έργου.

Το σονέτο για το πρώτο μέρος της Άνοιξης είναι το εξής:

*Η χαρούμενη Άνοιξη έφτασε,
Τα πουλιά την καλωσορίζουν με το εύθυμο τραγούδι τους,
και τα ρυάκια στις απαλές αύρες
κυλούν μ' ένα γλυκό ψιθύρισμα.*

*Ο ουρανός καλύπτεται από ένα μελανό πέπλο
και αστραπές και βροντές αναγγέλλουν την καταιγίδα.
Όταν τα στοιχεία σιωπήσουν, τα πουλιά
θ' αρχίσουν πάλι το μελωδικό τους τραγούδι.*

- Παρακολουθήστε το έργο «διαβάζοντας» τον παρακάτω χάρτη ακρόασης. Ο τρόπος που περιγράφει «ηχητικά» την άνοιξη ο συνθέτης ταιριάζει με το σονέτο από το οποίο εμπνεύστηκε;

Άνοιξη ☀️ Ρυάκια 🌊 Πουλιά 🐦 Αστραπές και βροντές ⚡️



- Σε ένα κονσέρτο γκρόσσο, το μικρό οργανικό σύνολο λέγεται «*κοντσερτίνο*» (*concertino*) και το μεγαλύτερο «*τούτι*» (*tutti*). Ξανακούστε την «Άνοιξη» και σηκώνετε το δεξί χέρι, όταν ακούτε κοντσερτίνο και το αριστερό, όταν ακούτε τούτι.



Αντόνιο Βιβάλντι

Το «κλασικό» στον ορίζοντα του διαχρονικού

2. Παρατηρήστε την πρώτη σελίδα από την παρτιτούρα ορχήστρας του 1ου μέρους της 5ης Συμφωνίας του Μπετόβεν και ακούγοντας το έργο απαντήστε στις παρακάτω ερωτήσεις:

The image shows the first page of the musical score for the first movement of Beethoven's 5th Symphony. The score is for a full orchestra and includes parts for Flute, Oboe, Clarinet in B \flat , Bassoon, Horn in E \flat , Trumpet in C, Timpani, Violin I, Violin II, Viola, Violoncello, and Contrabass. The key signature is three flats (B \flat major/D minor) and the time signature is 3/4. The tempo is marked "Allegro con brio". Dynamics include *ff* (fortissimo) and *p* (piano). Measure numbers 5 and 10 are indicated above the staves.

A) Ποια όργανα παίζουν την πρώτη φορά το αρχικό μοτίβο;

B) Από ποια όργανα περνάει το μοτίβο μετά την αρχική έκθεση;

Γ) Ποιες είναι οι ενδείξεις για τη δυναμική του κομματιού;

Το «κλασικό» στον ορίζοντα του διαχρονικού

4. Ο «Μεσσίας» του Χέντελ, είναι το πιο δημοφιλές ορατόριο που γράφτηκε ποτέ. Το έργο ολοκληρώθηκε σε 24 ημέρες.

- Ακούστε το «Αλληλούια» από τον Μεσσία του Χέντελ.
- Σηκώστε το χέρι σας όταν ακούτε ομοφωνικά σημεία και κατεβάστε το όταν ακούτε πολυφωνικά.



Ο Γκέοργκ Φρήντριχ Χέντελ (Georg Frideric Handel 1685-1759) ήταν Γερμανός συνθέτης.

Έζησε ένα μεγάλο μέρος της ζωής του στην Αγγλία.

Συνέθεσε περισσότερες από 40 όπερες μέσα σε 35 χρόνια και έγινε ιδιαίτερα δημοφιλής.

Ομοφωνία: Υφή που αποτελείται από την κύρια μελωδία και τις συγχορδίες που τη συνοδεύουν.

Πολυφωνία: Υφή κατά την οποία ακούγονται ταυτόχρονα δύο ή περισσότερες μελωδικές γραμμές που είναι ανεξάρτητες μεταξύ τους.

5. Ακούστε ένα απόσπασμα από το «Μαγικό Αυλό» του Β. Α. Μότσαρτ.

Απαντήστε στις παρακάτω ερωτήσεις με ΝΑΙ ή ΟΧΙ:

- Είναι ορχηστρικό μέρος;

- Είναι χορωδιακό;

- Είναι άρια;

- Είναι ρετσιτατίβο;



Σκηνή από τη όπερα «Μαγικός Αυλός»

Μια Μεσόγειος . . . μουσική

3. Ακούστε το πρώτο θέμα από τον «Τελετουργικό χορό της Φωτιάς» του «Μάγου Έρωτα» του Μανουέλ ντε Φάλληλα.

✎ Βάλτε στη σειρά την εμφάνιση των οργάνων ενώνοντας τα πλαίσια με μια γραμμή. (Σημ.: το σύνολο βιόλες, κοντραμπάσα, κλαρινέτα εμφανίζεται δύο φορές)

Βιόλες, Κοντραμπάσα, Κλαρινέτα

Βιόλες, Κοντραμπάσα, Κλαρινέτα

Κόρνα

Όμποε

Βιολιά, φλάουτα

Φλάουτα, κλαρινέτα

4. Οι παρακάτω μελωδίες είναι δύο αποσπάσματα από μια ταραντέλα.

- Προσπαθήστε να τραγουδήσετε τη «Μελωδία Α» αρχικά σολφέζ και στη συνέχεια τραγουδώντας με «τρα λα λα . . .». Ακολουθήστε την ίδια διαδικασία και για τη «Μελωδία Β» και στη συνέχεια τραγουδήστε το τραγούδι δημιουργώντας μορφή Α Β Α.

Μελωδία Α

Μελωδία Β

Εδώ είναι Βαλκάνια!

1. Ακούστε και δοκιμάστε να τραγουδήσετε το «Βενζινάδικο» σε στίχους Λ. Νικολακοπούλου («Kustino Oro»: παραδοσιακό τσιγγάνικο τραγούδι).

Μουσική με στίχους:

1. Νά μπο-ρού - σα στα σύν-νε-φα... να 'χασε-γώ βεν-ζι - νά δι - κο

5. στο κε-νό να κιν - δύνευ-α... για τ'α-στέ - ρι μου τ'ά-δι - κο

9. οι καρ-διές πα-λιο - σί-δε-ρα, σέ - να σώ - μα κα - τά-δι - κο.

13. Φέρ - τε μου πο-τή-ρια και σπά-στε το γιαλί κό-φτε το φι-λί να πί - νο, να με-θώ.

17. Πουό-λα τα χα-τή ριαμου τ'άρ-γη - σες πολύ κιέ-φυ-γαι τρελή ψη - λά στον ου-ρα-νο.

21. Να λη-σμο-νή σω μπο - ρεί, στον κό-σμο πά - λι να φτά - νο
Εί - να φορ-τί - ο βα - ρύ για τον και - ρό των τσιγ - γά - νων

25. Φω-τιές, καρ-διές, πα-λιο - σί-δε-ρα... κιέ-νας Θε-ός πά - νοσπ' τ'ά-δι-κο.

D.C.

Α - σε μεε-μέ - να στα σύν-νε φά... σέ-να πα-λιό βεν-ζι - νά-δι - κο.

- Συνοδεύστε τη μουσική αυτή με κρουστά ακολουθώντας τα παρακάτω ρυθμικά σχήματα. Οι γραμμές των φθογοσώμων με φορά προς τα κάτω δηλώνουν χτύπημα στο κέντρο του τυμπάνου, ενώ αυτές προς τα πάνω δηλώνουν χτύπημα στην άκρη.



1.

2.

Εδώ είναι Βαλκάνια!

- Ακούστε το «*Mosaïque*» των Gipsy Kings. Ποια κοινά στοιχεία διαπιστώνετε; Κυκλώστε με κόκκινο τα χαρακτηριστικά του «Βενζινάδικου» και με μπλε του «*Mosaïque*».

Μελωδία	Με άηματα	Βηματική
Ρυθμός	Ζωηρός	Ήρεμος
Όργανα	Έγχορδα	Πνευστά

- Αναφέρετε κάποιους από τους παράγοντες, οι οποίοι κατά τη γνώμη σας δημιουργούν τις διαφορές στη «μουσική γλώσσα» των τσιγγάνικων τραγουδιών.



2. Το παρακάτω τραγούδι είναι από τη Βουλγαρία. Οι σίχοι του είναι οι παρακάτω:

«Ένα κορίτσι περπατάει»

*Ένα κορίτσι περπατάει στα πράσινα λιβάδια,
ανάμεσα στους ηλιόλουστους αγρούς.*

- Προσπαθήστε να το τραγουδήσετε αρχικά με σοφρέζ και στη συνέχεια με τα λόγια.

7

Μό με ό ντι___ Νις Λι βά ντα___ Λι___ βά ντα Σι

ρό κα Λε___ Λι___ βά ντα μπε λέ να___

- Δοκιμάστε να χτυπήσετε με παλαμάκια το μέτρο 7/8 τονίζοντας με τον εξής τρόπο:

- U U - U - U

- Τώρα δοκιμάστε να χωριστείτε σε δύο ομάδες και να τραγουδήσετε την παρακάτω φράση. Το δεύτερο πεντάγραμμο είναι ισοκράτημα (διαβάζει τα ίδια λόγια με το πάνω πεντάγραμμο).

1

Mo με ο ντι νις Λι βα ντα

2

- Ποιες νότες είναι το ισοκράτημα;

- Οι ρυθμικές αξίες του ισοκρατήματος είναι ίδιες με την κύρια φωνή; Κυκλώστε τη σωστή απάντηση.

ΝΑΙ ΟΧΙ



Διαθεματική εργασία

Με τη βοήθεια του φιλολόγου σας κάντε μια έρευνα γύρω από την παραγωγή «του Νεκρού Αδελφού» και μιλήστε για την ιστορία αυτή που συναντάται σε όλες τις βαλκανικές χώρες.

Προσπαθήστε να δραματοποιήσετε την ιστορία που αφηγείται και ανεβάστε μια παράσταση με αυτό το θέμα, την οποία θα παρουσιάσετε στο σχολείο σας. Επενδύστε μουσικά την παράστασή σας με ήχους που θα δημιουργήσετε μόνοι σας με όργανα από άχρηστα υλικά.

Τι έμαθα ...

1. Βάλτε σε κατηγορίες τα παρακάτω είδη τραγουδιού: μπαλάντα, της δουλειάς, ύμνοι, έπη, ερωτικό, της γέννησης, του κυνηγιού, κήλιαντα

Αφηγηματικά	Τελετουργικά

2. Ποια είδη μουσικής παρουσιάζουν οι παρακάτω εικόνες; Ενώστε την κάθε εικόνα με την κατάλληλη λέξη:

συμφωνία

κονσέρτο

ορατόριο

όπερα

1



2



3



4



3. Συμπληρώστε τα κενά.

- α. Τα τρία συστατικά του φλαμένκο είναι το _____ ,
ο _____ και η _____.
- β. Ο Κλαούντιο Μοντεβέρντι έγραψε την όπερα _____.
- γ. Η κρατημένη νότα πάνω από την οποία κινούνται οι άλλες φωνές ονομάζεται _____.

4. Αντιστοιχίστε τους ορισμούς με τις λέξεις.

- Αντιφωνία Αποτελείται από την κύρια μελωδία και τις συγχορδίες που τη συνοδεύουν.
- Ομοφωνία Ακούγονται ταυτόχρονα πολλαπλές μελωδικές γραμμές που είναι ανεξάρτητες μεταξύ τους.
- Πολυφωνία Εναλλαγή ανάμεσα στον κορυφαίο και τη χορωδία.

Μουσικοί ρυθμοί στην Ελλάδα

Ο ίαμβος (υ - = ♩) και ο τροχάιος (- υ = ♩) χρησιμοποιούνται σήμερα και για το κήλεσμα των πιστών και των μοναχών στις ακολουθίες και τις λιτανείες που τελούνται στα μοναστήρια. Το κήλεσμα αυτό γίνεται με μια μακρόστενη σανίδα ή ένα σιδερένιο έλασμα, το Σήμαντρο. Προσαρμοσμένοι πάνω σε επαναλαμβανόμενες λέξεις, οι ρυθμοί αυτοί γίνονται εύκολα αντιληπτοί και μαθαίνονται γρήγορα από τους μοναχούς.



- Χρησιμοποιώντας κρουστά όργανα μέσα στην τάξη να δουλέψετε το κάθε παράδειγμα ξεχωριστά. Έπειτα χωριστείτε σε δύο ομάδες και προσπαθήστε να συνδυάσετε τα δύο ρυθμικά σχήματα, παίζοντας η κάθε ομάδα το δικό της παράδειγμα.

Αφού τα καταφέρετε, αλλιάξετε τα παραδείγματα και προσπαθήστε ξανά.

Τροχάιος

Τον Α- δάμ τον Α- δάμ τον Α- μήν Α- μήν Α- δάμ τον Α-

Ίαμβος

τά- λαν- τον το τά- το τά- το τά- λαν- τον το τά- το τά- το

δάμ τον Α- δάμ τον Α- μήν Α- μήν Α- δάμ- -

τά- λαν- τον το τά- το τά- το τά- λαν- τον τά- λαν- τον

- Αναγνωρίστε τα παρακάτω μέτρα με βάση το ρυθμικό σχήμα που θα ακούτε σε κάθε απόσπασμα.

Σημειώστε με τικ (✓) τη σωστή απάντηση:

	5/8	7/8	9/8
1.			
2.			
3.			
4.			
5.			


Μουσική ... πατριδογνωσία

1. α. Αναγνωρίστε την περιοχή προέλευσης των τραγουδιών που θα ακούσετε. Σημειώστε τον αριθμό του παραδείγματος δίπλα στην κατάλληλη περιοχή (π.χ. 4-Θράκη).
- β. Ποια χαρακτηριστικά τους τα κάνουν να ξεχωρίζουν; (π.χ. κατά τόπους ιδιώματα, όργανα, πολυφωνία κ.ά.).

	Θράκη
	Μακεδονία
	Ήπειρος
	Επάνησα
	Κρήτη
	Πόντος


2. Τραγουδήστε το τραγούδι «Ντιρλταντά» (Ανθολόγιο σελ. 37). Δοκιμάστε να δημιουργήσετε δικούς σας στίχους και ρυθμική συνοδεία στο αυτοσχέδιο αυτό τραγούδι. Τραγουδήστε όλοι μαζί τη φράση «Ω! Ντιρλταντά, ντιρλτανταντά» και στη θέση των στίχων, ένας ένας με τη σειρά δημιουργήστε ένα δικό σας στίχο για τα μαθήματα του σχολείου.

π.χ. Δε θέλω μαθηματικά, ντανταντιρλτανταντά
ασκήσεις, τεστ και τα λοιπά, ντανταντιρλτανταντά. . .



3. Κρατώντας τις ρυθμικές αξίες και τα λόγια του τραγουδιού «Μήλο μου κόκκινο», που δίνονται παρακάτω, δημιουργήστε τη δική σας μελωδία χρησιμοποιώντας τις νότες Ντο Ρε Μι Φα Σολ Λα. Αποτυπώστε τη δημιουργία σας στο παρακάτω πεντάγραμμο και δοκιμάστε να παίξετε ή να τραγουδήσετε τη «μουσική σας σύνθεση».

Μή - λο μου κόκ - κι - νο ρόι - δο βα - μέ - νο
5 για - τί με μά - ρα - νες τον πι - κρα - μέ - νο



4. Τα παραδείγματα που θα ακούσετε είναι ηχογραφήσεις δύο δημοτικών τραγουδιών από την Τρανσυλβανία που τα επεξεργάστηκε ο Μπέλα Μπάρτοκ και τα χρησιμοποίησε σε έργα του.


Συζητήστε για τον τρόπο με τον οποίο ο συνθέτης χρησιμοποιεί τα τραγούδια αυτά στις συνθέσεις του:

- οι δημοτικές μελωδίες χρησιμοποιούνται σχεδόν αυτούσιες ή απλά ένα μέρος τους;
- αποτελούν το σημαντικότερο μέρος των έργων ή είναι το ίδιο σημαντικές με τα μέρη που προστίθενται;

Μουσική ... πατριδογνωσία

Μπέλα Μπάρτοκ (Béla Bartók), 1881-1945

Ούγγρος συνθέτης και πιανίστας. Γνήσιος υποστηρικτής της εθνομουσικολογίας, συνέθεσε εμπνεόμενος από τα θέματα, τους τρόπους και τη ρυθμική φρασεολογία της παραδοσιακής μουσικής της πατρίδας του. Η γνωριμία του με το Ζόλταν Κόνταλυ (Zoltán Kodály), τον οδήγησε στην ηχογράφηση παραδοσιακών μελωδιών της υπαίθρου. Έτσι άρχισε τη συλλογή τραγουδιών από τη Ρουμανία, τη Σερβία, την Κροατία, τη Βουλγαρία και την Τουρκία. Η καταγραφή και η επεξεργασία των μουσικών παραδόσεων του κόσμου έγινε για αυτόν έργο ζωής.



«Δεν υπάρχει κανείς τρόπος να σταματήσουμε τη διαδικασία [εξαφάνισης του δημοτικού τραγουδιού] ...παρά μόνο αν μαζέψουμε περισσότερη [μουσική], πιο εξαντλητικά και όσο πιο γρήγορα μπορούμε»

Μπέλα Μπάρτοκ

5. Απαντήστε τις παρακάτω ερωτήσεις και βρείτε την κρυμμένη λέξη στην ακροστιχίδα ακολουθώντας τους αριθμούς.

- α. _____ 8.
 β. _____ 2.
 γ. _____ 3. _____
 δ. _____ 4. _____
 ε. _____ 1. _____
 στ. _____ 6. _____
 ζ. _____ 5. _____
 η. _____ 7. _____



- α. Διάσημος θρακιώτικος χορός.
 β. Τις συναντάμε στα πανηγύρια, στην ευρύτερη περιοχή της Μακεδονίας.
 γ. Τα πολυφωνικά τραγούδια της Ηπείρου βασίζονται σε τέτοιες κλίμακες.
 δ. Σε τι μέτρο είναι γραμμένος ο πανελλήνιος καλαματιανός;
 ε. Βασικός χορός σε πεντάσημο ρυθμό στην περιοχή του Πόντου.
 στ. Αντιπροσωπεύει μια άλλη μορφή πολυφωνίας από αυτήν της Ηπείρου.
 ζ. Αυτό το όργανο κυριαρχεί στην Ηπειρώτικη μουσική.
 η. Χορός σε 2/4 στην περιοχή της Κρήτης.

Η κρυμμένη λέξη είναι: _____

Με βιοηί σαντουροβιοηι

1. Ακούστε προσεχτικά τα ηχητικά παραδείγματα και σημειώστε με τικ (✓) το όργανο που αναγνωρίζετε κάθε φορά:

	ΓΚΑΪΝΤΑ	ΤΣΑΜΠΟΥΝΑ	ΚΡΗΤΙΚΗ ΛΥΡΑ	ΠΟΝΤΙΑΚΗ ΛΥΡΑ	ΛΑΓΟΥΤΟ	ΟΥΤΙ
1						
2						
3						
4						
5						
6						

2. Ακούστε το τραγούδι «Κάτω στο γιαλό» από το Θεολόγο Γρύλληη. Απαντήστε στις ερωτήσεις με ΝΑΙ ή ΟΧΙ.

α. Ακολουθεί πιστά την παραδοσιακή μελωδία η εκτέλεση; _____

β. Ακούγονται μόνο παραδοσιακά όργανα; _____

3. Μιμηθείτε τον τρόπο που ηχεί η «γκάιντα».

Χωριστείτε σε ομάδες των πέντε ατόμων και δημιουργήστε μια απλή μελωδία 4 μέτρων 2/4 που να πατά πάνω σε ισοκράτημα.

Δύο άτομα θα είναι ο «ισοκράτης» της «γκάιντας», θα τραγουδούν δηλ. με κλειστό στόμα με «μ μ μ ...» τη νότα του ισοκρατήματος, ένας μαθητής θα είναι η «γκαϊτανίτσα», θα παίζει δηλαδή τη μελωδία σε ένα όργανο και δύο θα την τραγουδούν.

Οι νότες που μπορείτε να χρησιμοποιήσετε είναι Ντο Μι Φα Σοη και ισοκράτημα η νότα Ντο.

Με βιολή σαντουροβιόλη

4. Θα ακούσετε 6 διαφορετικά αποσπάσματα. Σημειώστε με τικ (✓) το όργανο που αναγνωρίζετε κάθε φορά:

	ΣΑΝΤΟΥΡΙ	ΚΑΝΟΝΑΚΙ	ΖΟΥΡΝΑΣ	ΚΛΑΡΙΝΟ	ΒΙΟΛΙ	ΝΤΑΟΥΛΙ
1						
2						
3						
4						
5						
6						

5. Απαντήστε στις παρακάτω ερωτήσεις και βρείτε την κρυμμένη λέξη στην ακροστική ακολουθώντας τους αριθμούς.

α. _ _ _ _ _ 3. _ _ _

β. _ 2. _ _ _ _ _

γ. _ _ _ _ _ 6. _ _ _ _ _

δ. _ _ _ _ _ 4. _ _ _ _ _

ε. _ _ _ _ _ 5. _ _ _

στ. _ _ _ _ _ 1. _ _

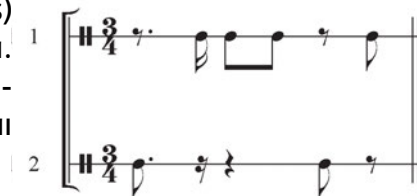
ζ. _ _ _ _ _ 7. _ _ _



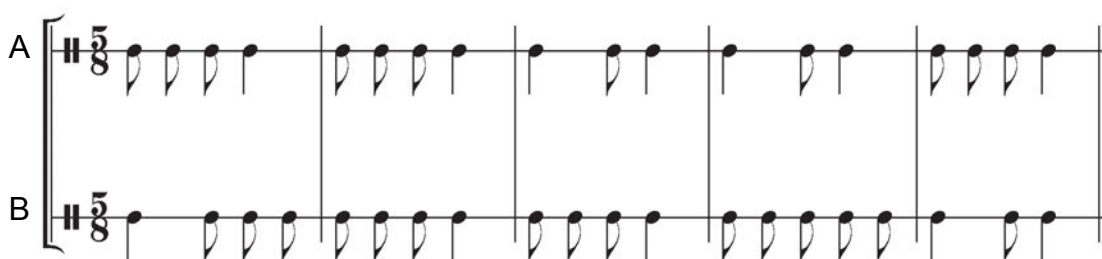
- α. Παίζεται με πένες προσαρμοσμένες σε μεταλλικές δακτυλήθρες.
- β. Συνοδεύει την τσαμπούνα στα νησιά.
- γ. Είδος κινητών καβαλήρηδων στο κανονάκι.
- δ. Έτσι λέγεται ο ζουρνατζής που παίζει τη μελωδία σε ένα σύνολο με δύο ζουρνάδες.
- ε. Παίζεται με μπαγκέτες τυλιγμένες στην άκρη με μαλακό υλικό.
- στ. Έχει τη μεγαλύτερη έκταση από όλα τα πνευστά.
- ζ. Ένα από τα εξαρτήματα του ζουρνά.

Η κρυμμένη λέξη είναι: _____

6. Ακούστε το τραγούδι «Ο Όρλιγκας» (τσάμικος) και συνοδέψτε με το διπλανό ρυθμικό σχήμα. Χωριστείτε σε δύο ομάδες: η μία ομάδα θα χτυπάει με ντέφι ή ξυλάκια το ρυθμικό σχήμα 1 και η άλλη με τύμπανα το 2.



7. Φτιάξτε μια ομάδα παραδοσιακών κρουστών. Παίξτε το παρακάτω ρυθμικό σχήμα. Με συλή στο δεξί χέρι χτυπήστε στο θρανίο το ρυθμικό σχήμα Α και με την παλάμη του αριστερού χεριού το Β.



Για τον Έλληνα της υπαίθρου το νταούλι αποτελεί πολλές φορές το κύριο όργανο. Έτσι σε ορισμένες περιοχές, με τη λέξη «όργανα» εννοούσαν τα νταούλια π.χ. στην Ήπειρο «όργανο» σημαίνει μεγάλο τύμπανο, στη Σιάτιστα «όργανο» σημαίνει νταούλι.

8. Ακούστε μέρος από το «Μοιρολόι» του Τάσου Χαλκιά. Πρόκειται για έναν αυτοδίδακτο μουσικό, το παίξιμο του οποίου συγκλήνισε ακόμη και τον μεγάλο μουσικό της τζαζ Μπένι Γκούντμαν (Benny Goodman).



*«Στο κληρίνο του Χαλκιά βογκάει, τινάζεται, χαμογελάει, χορεύει η Ελλάδα»
Γιάννης Ρίτσος*

«Όλη η ψυχή της πολυβασανισμένης Ρωμιοσύνης βρίσκεται στο κληρίνο του»

Μίκης Θεοδωράκης

Διαθεματική εργασία:

Σε συνεργασία με τον καθηγητή της Τεχνολογίας προσπαθήστε να κατασκευάσετε ένα σαντούρι.



Ζυγίες και Κομπανίες

1. Με τη βοήθεια του χάρτη να σημειώσετε δίπλα σε κάθενα από τα οργανικά συγκροτήματα που ακολουθούν την περιοχή που το συναντάμε.



Χάρτης Ελλάδος

ΟΡΓΑΝΙΚΟ ΣΥΓΚΡΟΤΗΜΑ	ΠΕΡΙΟΧΗ
Λύρα – Τουμπί	
Γκάνιντα – Νταχαρές	
Τσαμπούνα – Τουμπί	
Λύρα – Νταούλι	
Λύρα - Λαγούτο	

2. Ακούστε προσεκτικά τα ηχητικά παραδείγματα και σημειώστε τους συνδυασμούς των οργάνων με τη σειρά που εμφανίζονται.

*Λύρα-Νταούλι
Βιολί-Λαγούτο
Ζουρνάδες-Νταούλι*

*Γκάνιντα-Νταχαρές
Βιολί-Σαντούρι-Λαγούτο
Τσαμπούνα-Τουμπί*

1	
2	
3	
4	
5	
6	

Ζυγίες και Κομπανίες

3. Απαντήστε τις παρακάτω ερωτήσεις και βρείτε την κρυμμένη λέξη στην ακροστιχίδα ακολουθώντας τους αριθμούς.

- α. _ _ _ 8. _ _ _ _ _
 β. _ _ _ 2. _ _ _
 γ. _ 3. _ _ _ _ _ _ _
 δ. _ _ _ _ _ _ _ _ _ _ _
 ε. _ _ 5. _ _ _ _ _ _ _
 στ. _ _ _ _ _ _ _ _ _ _ 7. _
 ζ. _ _ _ 4. _ _ _ _ _ _ _ 1. _
 η. _ _ _ 6. _ _ _ _ _ _ _

- Βασικό όργανο της *κομπανίας*.
- Αυτό το όργανο αντικατέστησε τη λύρα και την τσαμπούνα.
- Στη ζυγιά «*βιοηλί-ηλαγούτο*», το βιοηλί παίζει τη ...
- Το οργανικό συγκρότημα «*ζουρνάδες-νταούηλι*» είναι χαρακτηριστικό της ... Ελλάδας.
- Αυτό το όργανο αντικατέστησε στις αρχές του 20ού αι. τον ταμπουρά και το τουμπί.
- Η ζυγιά «*ηλύρα-νταούηλι*» είναι συνδεδεμένη με πανάρχαια δρώμενα όπως τα ...
- Τα όργανα της ζυγιάς έχουν κατά κανόνα ... ηχόχρωμα.
- Χρησιμοποιήθηκε ευρύτερα μετά τη μικρασιατική καταστροφή παίζοντας μελωδικό αηλιά και συνοδευτικό ρόλο.

Η κρυμμένη λέξη είναι: _____

4. Φτιάξτε τη δική σας «*κομπανία*». Χωριστείτε σε ομάδες και προσπαθήστε να αναπαράγετε το παρακάτω απόσπασμα του τραγουδιού «*Σού 'πα μάνα*» (Ανθολόγιο σελ. 49).

Χρησιμοποιείτε δύο μελωδικά όργανα (ένα για τη μελωδία, ένα για το ισοκράτημα, δηλ. τις νότες πάνω από το πεντάγραμμο) και δύο ρυθμικά τα οποία θα παίζουν το εξής ρυθμικό σχήμα για συνοδεία:



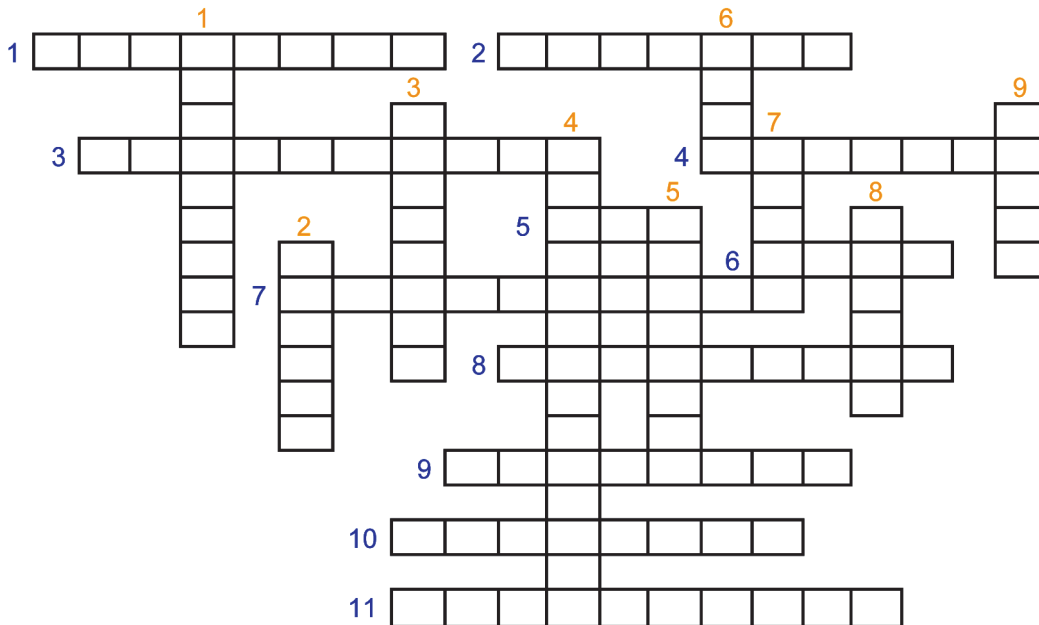
Ντο Ρε Ντο Ρε Ντο Φα Ντο Ρε

Σου 'πα μά - να, κα - λέ μά - να, σου 'πα μά - να, πά-ντρε - ψε με

Επιλέξτε τον κατάλληλο τραγουδιστή και το κατάλληλο όνομα για την κομπανία σας και παίξτε το τραγούδι στην τάξη!

Τι έμαθα ...

1. Βρείτε τις απαντήσεις στο σταυρόλεξο.



ΟΡΙΖΟΝΤΙΑ

1. Μετά τη μικρασιατική καταστροφή, χρησιμοποιείται ευρύτερα στον ελληνικό χώρο (ανάστροφα).
2. Βασικό όργανο στη μουσική παράδοση της Ηπείρου.
3. Σε ορισμένες περιοχές της Ηπείρου, πολλά από τα τραγούδια είναι ...
4. Κολλημένες μεταξύ τους, αποτελούν το νχιό στο ούτι και το λαγούτο.
5. Ένας από τους δύο βασικούς χορούς των Ελλήνων του Πόντου.
6. Σε αυτό το όργανο οι εκτελεστές ερμηνεύουν ειδικότερα την ανατολική μουσική (ανάστροφα).
7. Χορευτικός ρυθμός που διασώθηκε από την αρχαία Ελλάδα.
8. Δύο μαζί και με νταούλι παίζονται στην Ηπειρωτική Ελλάδα (ανάστροφα).
9. Συνοδεύει τη γκάιντα στην περιοχή της Μακεδονίας.
10. Βασικός χορός της Ρούμελης.
11. Έτσι λέγεται ο εκτελεστής του ζουρνά που κρατά το ίσο.

ΚΑΘΕΤΑ


1. Όργανο που συνοδεύει την επανησιακή καντάδα (ανάστροφα).
2. Έτσι λέγεται το μικρό νταούλι στα νησιά (ανάστροφα).
3. Είναι κατά βάση το ελληνικό δημοτικό τραγούδι (ανάστροφα).
4. Βασικό στοιχείο στις κρητικές «κοντυλιές».
5. Έτσι λέγεται το οργανικό συγκρότημα με κύριο όργανο το κληρίνο.
6. Στην κρητική λύρα οι χορδές πιέζονται με αυτό (ανάστροφα).
7. Τόσες είναι οι χορδές στην κρητική και την ποντιακή λύρα.
8. Γνωστός πανελλήνιος χορός.
9. Βασικό εξάρτημα στην γκάιντα και την τσαμπούνα.

Βάσει του ν. 3966/2011 τα διδακτικά βιβλία του Δημοτικού, του Γυμνασίου, του Λυκείου, των ΕΠΑ.Λ. και των ΕΠΑ.Σ. τυπώνονται από το ΙΤΥΕ - ΔΙΟΦΑΝΤΟΣ και διανέμονται δωρεάν στα Δημόσια Σχολεία. Τα βιβλία μπορεί να διατίθενται προς πώληση, όταν φέρουν στη δεξιά κάτω γωνία του εμπροσθόφυλλου ένδειξη «ΔΙΑΤΙΘΕΤΑΙ ΜΕ ΤΙΜΗ ΠΩΛΗΣΗΣ». Κάθε αντίτυπο που διατίθεται προς πώληση και δεν φέρει την παραπάνω ένδειξη θεωρείται κλεψίτυπο και ο παραβάτης διώκεται σύμφωνα με τις διατάξεις του άρθρου 7 του νόμου 1129 της 15/21 Μαρτίου 1946 (ΦΕΚ 1946,108, Α').

Απαγορεύεται η αναπαραγωγή οποιουδήποτε τμήματος αυτού του βιβλίου, που καλύπτεται από δικαιώματα (copyright), ή η χρήση του σε οποιαδήποτε μορφή, χωρίς τη γραπτή άδεια του Υπουργείου Παιδείας και Θρησκευμάτων / ΙΤΥΕ - ΔΙΟΦΑΝΤΟΣ.



Κωδικός βιβλίου: 0-21-0219
ISBN 978-960-06-2723-7



(01) 000000 0 21 0219 1