

ΘΕΡΜΟΤΗΤΑ



ΦΕ1: Η ΘΕΡΜΟΤΗΤΑ ΜΕΤΑΔΙΔΕΤΑΙ ΜΕ ΑΓΩΓΗ



Γιατί ο Αστερίξ αναγκάστηκε να αφήσει το ακόντιο, ενώ ο Οβελίξ το κρατά ακόμη;



Πείραμα

Όργανα - Υλικά

μεταλλική βελόνα πλεξίματος
φελλός
κερί

Στερέωσε τη μία άκρη της βελόνας του πλεξίματος στο φελλό. Στάξε στη βελόνα σταγόνες από κερί, όπως βλέπεις στην εικόνα. Θέρμανε τη βελόνα στην άλλη άκρη της.



Παρατήρηση



Συμπέρασμα



Συμπλήρωσε το συμπέρασμα χρησιμοποιώντας τις λέξεις: •θερμότητα •ζεστό •κρύο
•αγωγή •μεταδίδεται

Γιατί έπρεπε να χρησιμοποιήσεις το φελλό στο προηγούμενο πείραμα;



ΕΡΓΑΣΙΕΣ ΓΙΑ ΤΟ ΣΠΙΤΙ

1. Μπορείς να εξηγήσεις γιατί ο Αστερίξ αναγκάστηκε να αφήσει το ακόντιο, ενώ ο Οβελίξ το κρατά ακόμη;



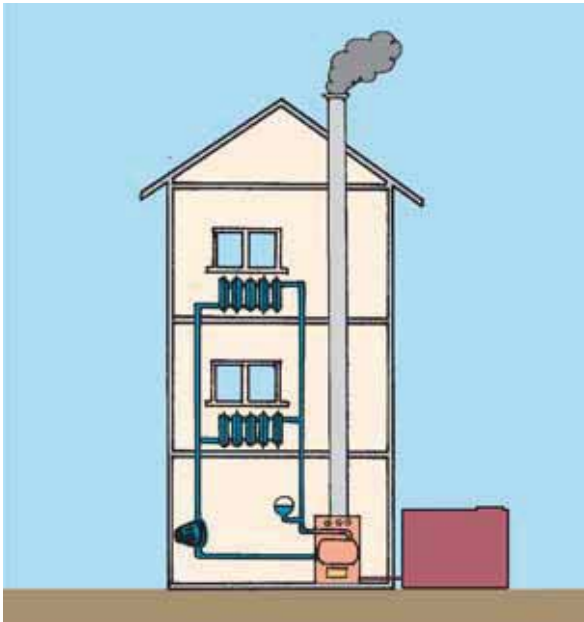
2. Αν ακουμπήσεις μία κατσαρόλα που βρίσκεται στο μάτι της κουζίνας, θα καείς. Αν την πιάσεις όμως από τα χερούλια, όχι. Μπορείς να εξηγήσεις γιατί δεν καιγόμαστε, όταν πιάνουμε την κατσαρόλα από τα χερούλια;



3. Μία μητέρα λέει στο παιδί της το χειμώνα: «Βάλε ζεστά ρούχα, για να μην κρυώσεις». Αν όμως μετρούσαμε με το θερμόμετρο, θα διαπιστώναμε ότι τα ρούχα και το δωμάτιο έχουν την ίδια θερμοκρασία. Τι θα έπρεπε να πει η μητέρα σωστότερα;



ΦΕ2: Η ΘΕΡΜΟΤΗΤΑ ΜΕΤΑΦΕΡΕΤΑΙ ΜΕ ΡΕΥΜΑΤΑ



Παρατήρησε στο διπλανό σκίτσο το σύστημα κεντρικής θέρμανσης ενός σπιτιού. Με την καύση πετρελαίου μεταφέρεται ενέργεια στο νερό που περνά από τους σωλήνες μέσα στο λέβητα. Το ζεστό νερό φτάνει στα θερμαντικά σώματα που βρίσκονται στους διάφορους χώρους του σπιτιού. Τα θερμαντικά σώματα μεταδίδουν τη θερμότητα στον αέρα γύρω τους. Ο ζεστός αέρας μεταφέρει τη θερμότητα στο δωμάτιο.

Ξέρεις όμως ότι το νερό και ο αέρας είναι κακοί αγωγοί της θερμότητας.

Με ποιο τρόπο μεταφέρεται, λοιπόν, η θερμότητα;



Πείραμα

Βάλε λίγο νερό σε δύο μπαλόνια. Δέσε τα μπαλόνια προσπαθώντας να μη μείνει αέρας μέσα τους. Βάλε το ένα μπαλόνι σε παγωμένο και το άλλο σε ζεστό νερό. Μετά από πέντε λεπτά ρίξε τα μπαλόνια στον κουβά, τον οποίο έχεις γεμίσει με νερό από τη βρύση. Τι παρατηρείς;



Παρατήρηση

◆ Το μπαλόνι με το ζεστό νερό _____

◆ Το μπαλόνι με το κρύο νερό _____



Πείραμα

0 1 2 3 4 5 6 7 8 9 10 11 12 13 14

Γέμισε ένα μπουκάλι με κρύο νερό κι ένα ποτήρι με ζεστό νερό που το έχεις χρωματίσει με νερομπογιά. Σε ένα χοντρό χαρτόνι άνοιξε με ένα καρφί μία τρύπα. Χρησιμοποιώντας το χαρτόνι τοποθέτησε το μπουκάλι πάνω στο ποτήρι, όπως βλέπεις στην εικόνα. Πρόσεξε ώστε η τρύπα του χαρτονιού να βρίσκεται κάτω από το στόμιο του μπουκαλιού. Τι παρατηρείς;



Παρατήρηση



Πείραμα

0 1 2 3 4 5 6 7 8 9 10 11 12 13 14

Κράτησε ένα φύλλο χαρτί πάνω από ένα θερμαντικό σώμα. Τι παρατηρείς; Σύγκρινε την παρατήρησή σου με αυτήν στο προηγούμενο πείραμα.



Παρατήρηση



Συμπέρασμα

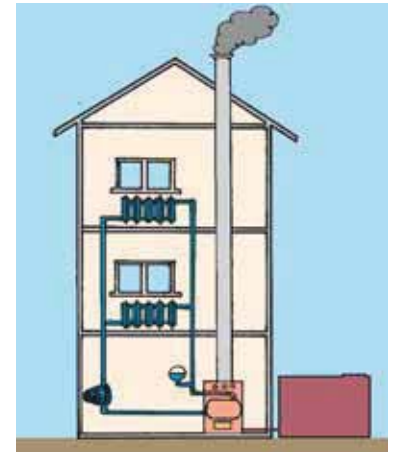


Συμπλήρωσε το συμπέρασμα χρησιμοποιώντας τις λέξεις: •υγρά •αέρια •θερμότητα
•μεταφέρεται •ρεύματα



ΕΡΓΑΣΙΕΣ ΓΙΑ ΤΟ ΣΠΙΤΙ

1. Μπορείς να περιγράψεις με συντομία τη λειτουργία του συστήματος κεντρικής θέρμανσης;



2. Με ποιο τρόπο μεταδίδεται η ενέργεια από το μάτι της κουζίνας στην κατσαρόλα και με ποιο τρόπο μεταφέρεται στις πατάτες;




3. Στον αέρα υπάρχουν διάφορα σκουπιδάκια τόσο μικρά, που δεν μπορούμε να τα δούμε. Μπορείς να εξηγήσεις γιατί μαυρίζει ο τοίχος πάνω από τα θερμαντικά σώματα;





ΦΕ3: Η ΘΕΡΜΟΤΗΤΑ ΔΙΑΔΙΔΕΤΑΙ ΜΕ ΑΚΤΙΝΟΒΟΛΙΑ



Η βασικότερη πηγή ενέργειας για τον πλανήτη μας είναι ο Ήλιος. Ένα μικρό μέρος της ενέργειας του Ήλιου φτάνει στη Γη. Έχεις γνωρίσει μέχρι τώρα δύο τρόπους ροής της θερμότητας:

- ◆ _____
- ◆ _____

Είναι δυνατή η ροή της ενέργειας από τον Ήλιο στη Γη με κάποιον από τους παραπάνω τρόπους;

- ◆ _____
- ◆ _____



Πείραμα

0 1 2 3 4 5 6 7 8 9 10 11 12 13 14

Πλησίασε την παλάμη σου στο κάτω μέρος μιας αναμμένης λάμπας. Τι παρατηρείς;



 Παρατήρηση



Είναι δυνατή η ροή της θερμότητας στο πείραμα αυτό με τους δύο τρόπους που έχεις μάθει μέχρι τώρα;

- ◆ _____
- _____
- ◆ _____
- _____



0 1 2 3 4 5 6 7 8 9 10 11 12 13 14 **Πείραμα**



Τοποθέτησε το βιβλίο σου κάτω από μία λάμπα ή στο φως του Ήλιου για 5 λεπτά. Ακούμπησε μετά το δάχτυλό σου στο πλαίσιο που είναι χρωματισμένο λευκό και στο πλαίσιο που είναι χρωματισμένο μαύρο. Τι παρατηρείς;

 **Παρατήρηση**

Συμπέρασμα




Συμπλήρωσε το συμπέρασμα χρησιμοποιώντας τις λέξεις: •θερμότητα •διαδίδεται
•ακτινοβολία •απορροφά •σώμα •χρώμα



ΕΡΓΑΣΙΕΣ ΓΙΑ ΤΟ ΣΠΙΤΙ

1. Πώς διαδίδεται η ενέργεια από τον Ήλιο στη Γη;



2. Γιατί το καλοκαίρι τα σκουρόχρωμα αυτοκίνητα θερμαίνονται περισσότερο από τα ανοιχτόχρωμα;



3. Αν βάλεις το χέρι σου πάνω από μία λάμπα, θερμαίνεται περισσότερο απ' ό,τι αν το βάλεις πλάι από τη λάμπα ή κάτω από αυτήν. Μπορείς να εξηγήσεις την παρατήρηση αυτή;



